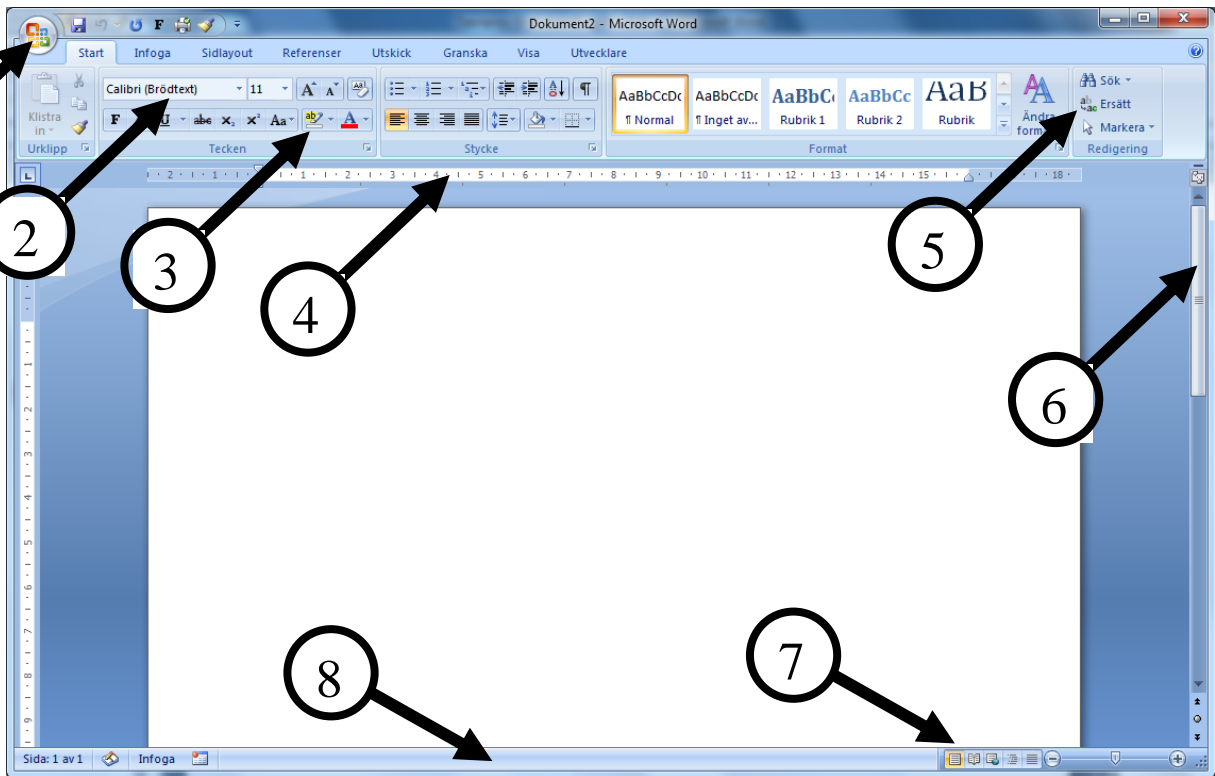


# Testprov Word

## Uppgift 1

Vad pekar pilarna på?



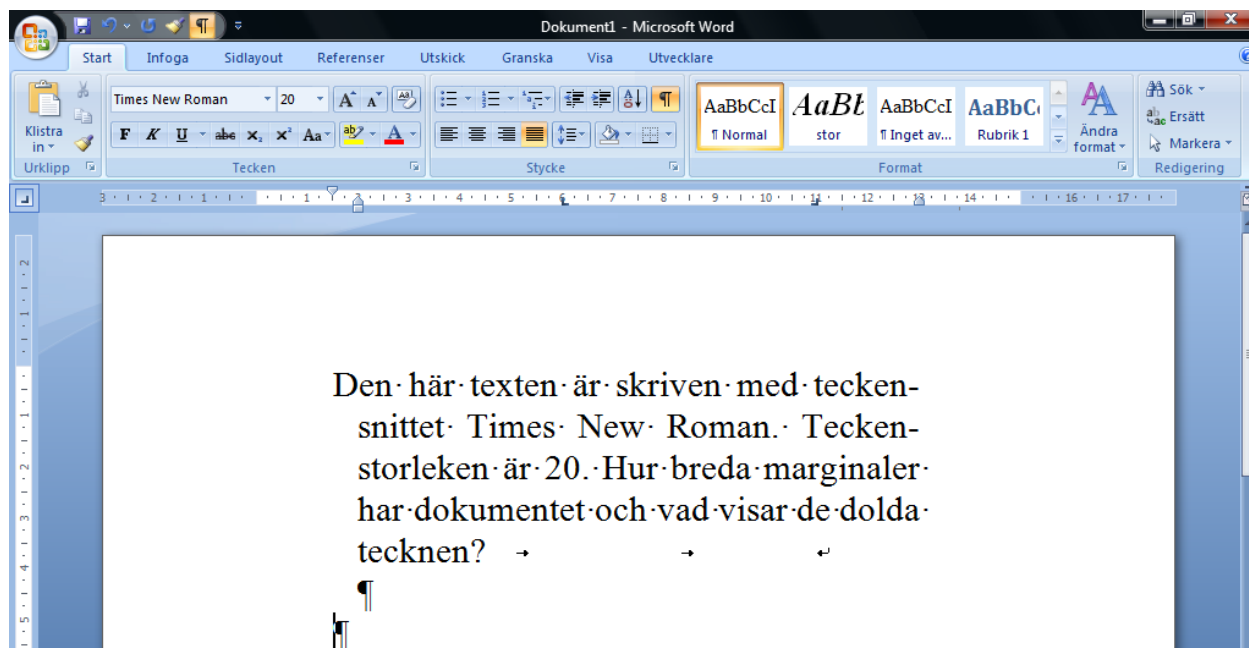
1. ....
2. ....
3. ....
4. ....
5. ....
6. ....
7. ....
8. ....

## Uppgift 2

Du ställer in vänstermarginalen på 2 cm och vänster indrag till 3 cm.  
Hur långt in på papperet börjar texten?

## Uppgift 3

På nedanstående bild finns det en text skriven. De dolda tecknen visas.  
Du ska med bildens hjälp svara på följande frågor.



- Det finns fyra typer av dolda tecken i texten. Vad visar dessa?
- Vad är inställningen för vänster- och högermarginal?
- Vad är inställningen för överkantsmarginalen?
- Hur stort är vänster- respektive högerindraget?
- Vad kallas den aktuella styckeinställningen?
- Vilka tabb-inställningar är gjorda i dokumentet?

## Uppgift 4

Hur gör du för att minimera menyfliksområdet?

### Uppgift 5

Hur gör du för att infoga en manuell sidbrytning? Ange två sätt, ett med ett menykommando och ett med en tangentbordskombination.

### Uppgift 6

När är det lämpligt att använda kommandot Spara som?

### Uppgift 7

Vad innebär det när du får en röd vågig understrykning av ett ord du skriver?

### Uppgift 8

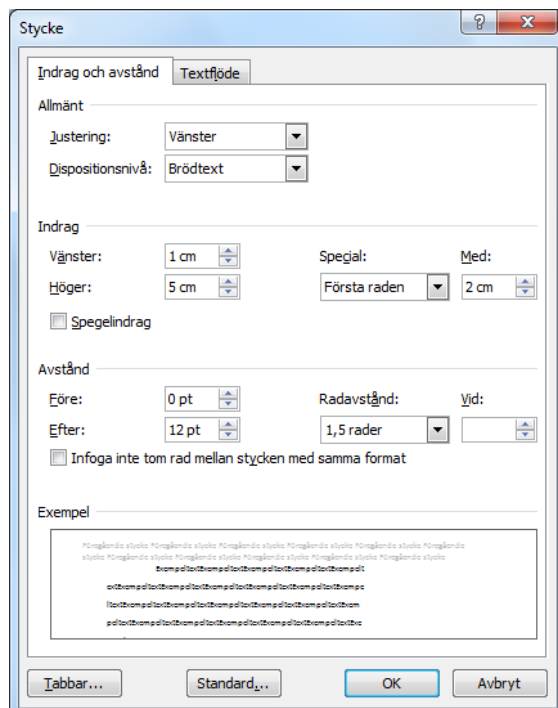
Ange kortkommandona för:

Skriv ut	.....
Spara	.....
Kopiera	.....
Klistra in	.....
Klipp ut	.....
Centrera text	.....
Förstora teckensnitt	.....
Understrykning	.....

### Uppgift 9

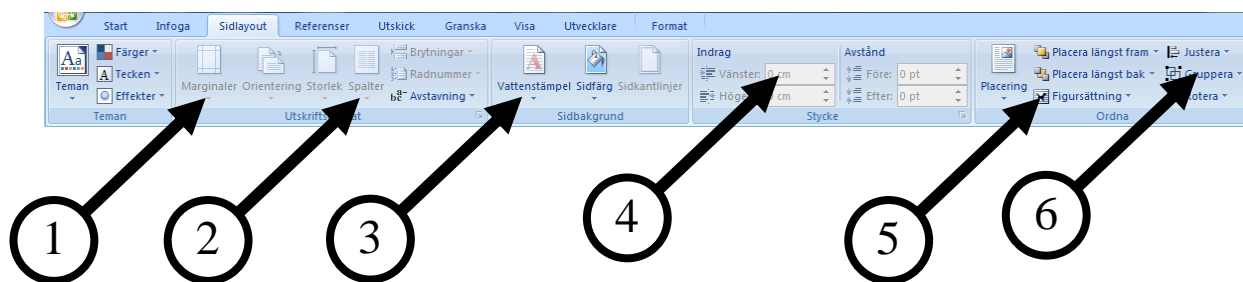
Dokumentet i vilket styckeinställningen på bilden är gjord, är ett A4-papper i stående format. Utskriftsmarginalen är inställd på: vänster 2,5cm och höger 2,5 cm. Se vilka inställningar som är gjorda i dialogrutan Stycke och besvara följande frågor.

1. Hur bred blir första raden i varje stycke?
2. Hur breda blir övriga rader i resten av varje stycke?
3. Hur långt från papperets vänsterkant börjar första raden i varje stycke?
4. Hur långt från papperets högerkant slutar styckena?
5. Hur stort är radavståndet?
6. Om du skriver flera stycken, hur långt blir då avståndet mellan styckena?



## Uppgift 10

Vilka funktioner pekar pilarna på i nedanstående menyfliksområde?

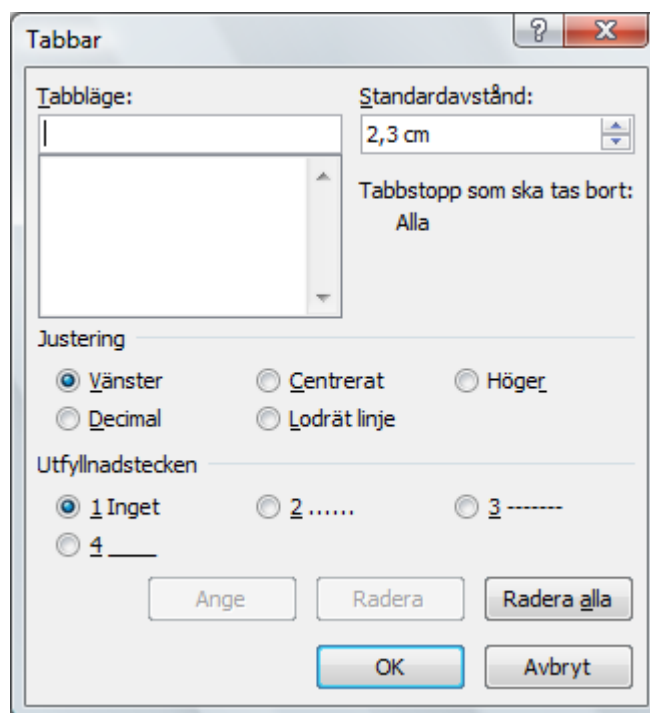


1. ....
2. ....
3. ....
4. ....
5. ....
6. ....

## Uppgift 11

a) Markera i dialogrutan hur du ställer in ett tabbläge på 10 cm, justering höger och utfyllnadstecken linje.

b) Ange hur du får fram den här dialogrutan.



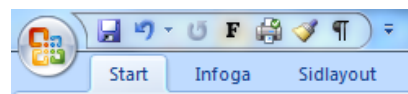
### Uppgift 12

Hur gör du för att göra en radbrytning utan att bryta stycket?

### Uppgift 13

Hur gör du för att anpassa verktygsfältet **Snabbåtkomst**?

D.v.s. lägga till/ta bort knappar.



### Uppgift 14

Hur gör du för att skapa en tabell med tre kolumner och fyra rader?


### Uppgift 15

Vad heter programdelen där det finns bilder, som du kan plocka in i ett dokument?



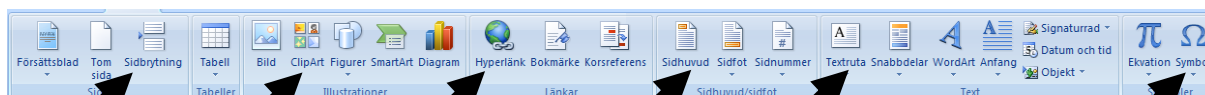
### Uppgift 16

Vad heter programdelen där du kan formatera text på olika sätt, t.ex. göra

Rubriker?

### Uppgift 17

Vilket menyfliksområde är detta? Förklara vad knapparna används till?



1

2

3

4

5

6

Menyfliksområdet heter: .....

1 .....

2 .....

3 .....

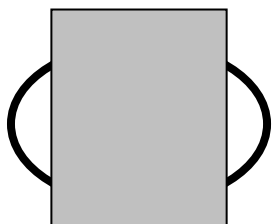
4 .....

5 .....

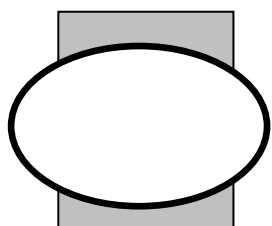
6 .....

## Uppgift 18

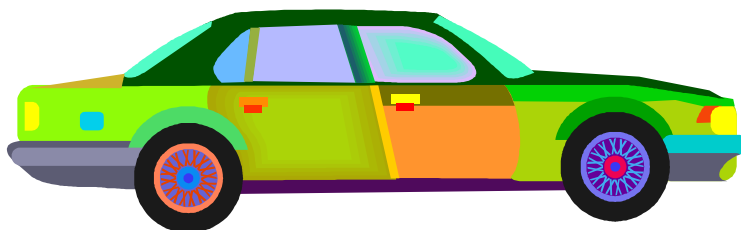
- a) I nedanstående figur finns det en oval och en rektangel. Hur gör du för att ändra figurerna proportionellt (så att både ovalen och rektangeln ändrar storlek lika mycket)?



- b) Hur gör du för att flytta rektangeln bakom ovalen?



- c) Hur gör du för att spegelvända ett objekt? T.ex. vända bilen så den kör åt andra hållet.



## Uppgift 19

Beskriv hur du gör de här styckena till en layout med två spalter?

Det inre av södra polarområdet eller Antarktis är den kallaste platsen på jorden. Under några timmar vid midsommar kan lufttemperaturen stiga till 21 minusgrader, men på några veckor kan den falla 30, 40 eller rentav 50 grader till en nivå som få levande organismer kan klara av. Marken ligger begravd under ett 2000 meter tjockt istäcke med ett lager snö ovanpå som aldrig smälter. På vintern stiger solen aldrig över den bleka horisonten och då råder ständigt mörker på Antarktis.

Inga djur kan leva i detta karga landskap. De finns istället spridda utmed kanten av kontinenten, på kustrensor och öar som inte är täckta av is året om. Utanför ligger Södra ishavs havet och isolerar dem från resten av världen. Eftersom man bara kan ta sig till Antarktis över havet, som också är det enda stället där det finns föda, finns det praktiskt taget bara havsdjur i regionen – sex olika sälararter, tolv arter valar och sex arter pingviner förutom ett stort antal andar sjöfåglar.

I andra änden av världen ligger Norra polarområdet eller Arktis, som är helt annorlunda. Istället för en frusen kontinent omgiven av hav är Arktis en frusen ocean omgiven av Nordamerikas, Europas och Nordasiens landmassor. Islagren är lika kalla och sterila som de i Antarktis, men nordpolarregionens utkanter, där de flesta djuren lever, är de nordliga utkanterna av Skandinavien, Sibirien, Alaska och Kanada. Därför är Arktis inte lika isolerat som Antarktis. Landdjur kan komma och gå som de vill och vandra norrut från de stora skogarna över den sankta, halvfrusna tundran till kanten av själva istäcket. Några av dem har stannat där.

Men varför lämnar djur de skyddande skogarna och vågar sig ut på de öppna, blåsiga vidderna i norr? Det beror på att det, tvärtom vad man skulle kunna tro, finns otroligt mycket föda vid isranden. Under hela vintern ligger marken nedtryckt under den tunga isen och det är mörkt dygnet runt. Men på våren kommer solen fram, snön smälter, havsisen spricker upp och alla polarväxterna slår ut i blom. På några veckor förvandlas hela det arktiska landskapet till ett hav av blommor, eftersom växterna anpassat sig till att utnyttja den korta sommaren.